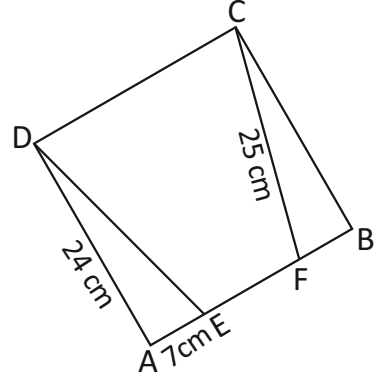


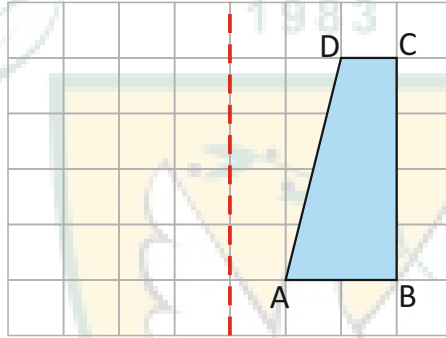
## 7. Sınıf Matematik



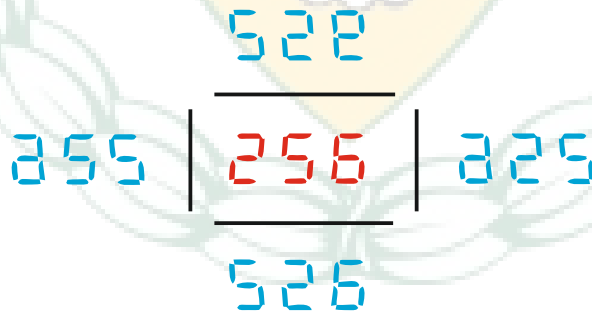
- 1 Yandaki ABCD karesinde AED ve BFC eş üçgenlerdir.  $|AE| = 7$  cm,  $|AD| = 24$  cm ve  $|CF| = 25$  cm olduğuna göre,  $|EF| + |DC|$  toplamı kaç cm dir?



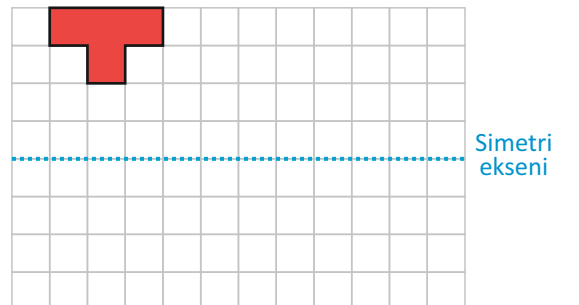
- 2 Kareli formda verilen şeklin simetri eksenine göre yansımalarını çiziniz.



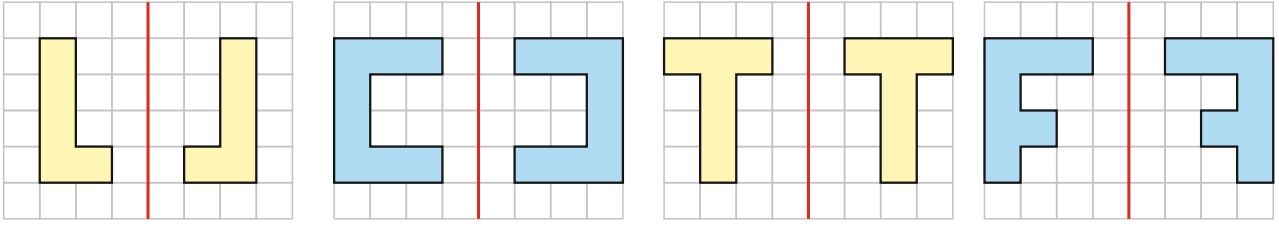
- 3 Dijital rakamlarla yazılan 256 sayısının dört tarafına şekildeki gibi aynalar konmuş ve aynalarda oluşan görüntüler verilmiştir. Buna göre, görüntülerden kaç tane yanlıştır?



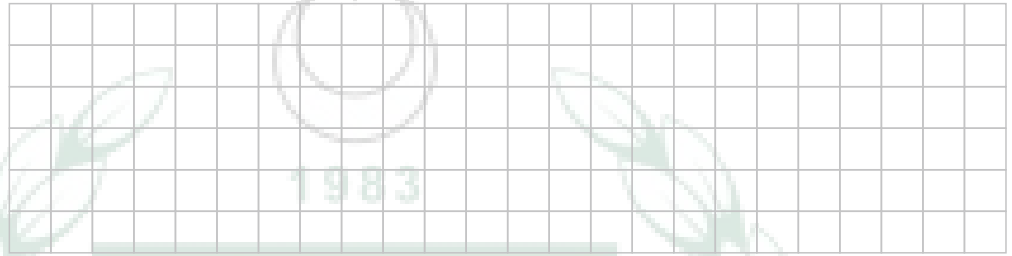
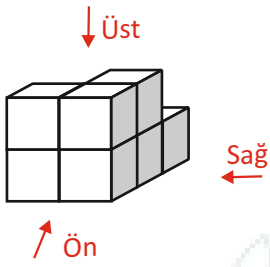
- 4 Kareli zemin üzerinde verilen şeklin 5 birim sağa 2 birim aşağıya öteledikten sonra simetri eksenine göre yansımalarını çiziniz.



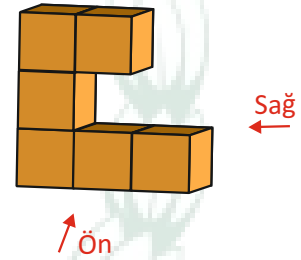
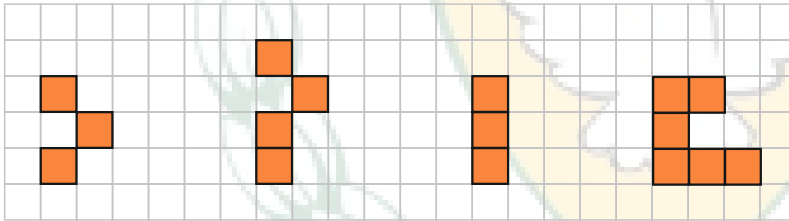
- 5 Aşağıdakilerden hangisinde **hem yansıma hem de ötelemeye örnek gösterilebilecek şekiller vardır?**



- 6 Verilen yapının **önden, sağdan ve üstten görünümünü** kareli zemine **çiziniz.**



- 7 Yanda verilen yapının **sağdan görünümü** aşağıda kareli zemin üzerine çizilmiş şekillerden hangisidir?



- 8 Aşağıdaki şekilden kaç numaralı birim küp çıkarılırsa, şeklin **üstten görünümü** değişir?

